

# Correction Brevet blanc 2015

## Première partie HISTOIRE 13 points

### I. QUESTIONS (8 pts)

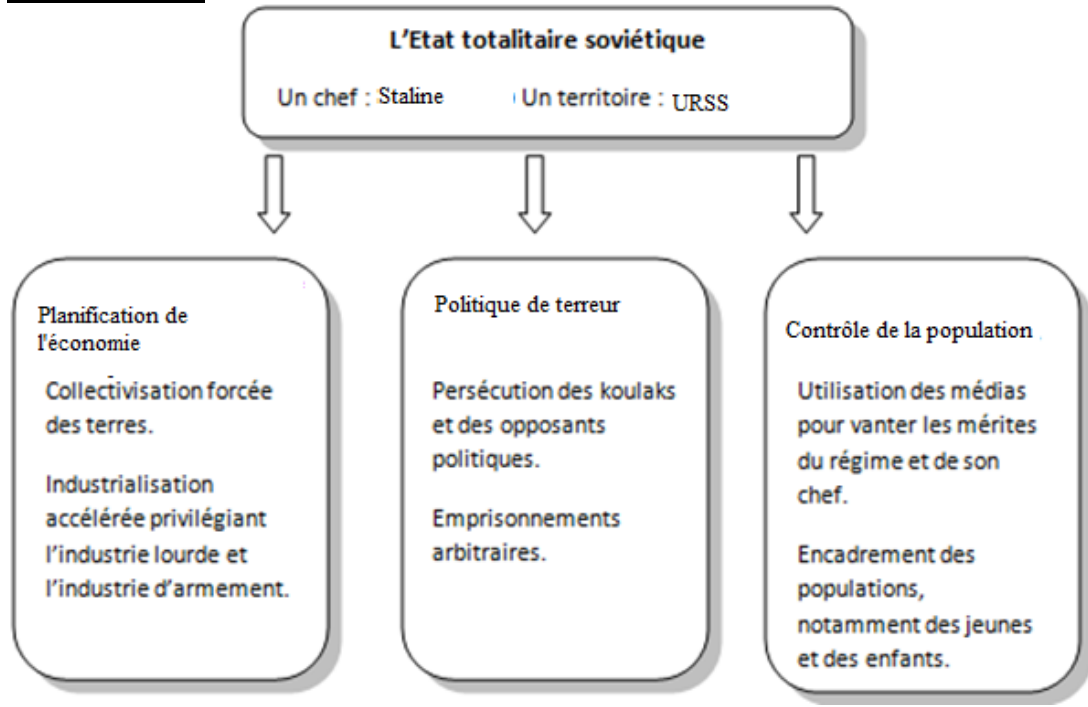
1) En 1598, après des décennies de conflits opposant catholiques et protestants dans le royaume de France, le roi Henri IV signe l'édit de Nantes, mettant fin (pour un temps) à ces querelles fratricides.

2) Au début du XX<sup>ème</sup> siècle, une loi essentielle est promulguée (votée) sous la III<sup>ème</sup> République, qui instaure la séparation de l'Eglise et de l'Etat. Désormais, le gouvernement ne subventionnera plus aucun culte religieux. Cette loi date de 1905.

Progrès médicaux au XX<sup>ème</sup> siècle :

3) En 1928, à Londres, A. Fleming découvre le pouvoir antibactérien du pénicillium, ce qui entraînera la mise au point des premiers antibiotiques.

## Totalitarismes :



4) A quelle date précise Hitler est-il nommé chancelier d'Allemagne ?  
Hitler devient chancelier le 30 janvier 1933

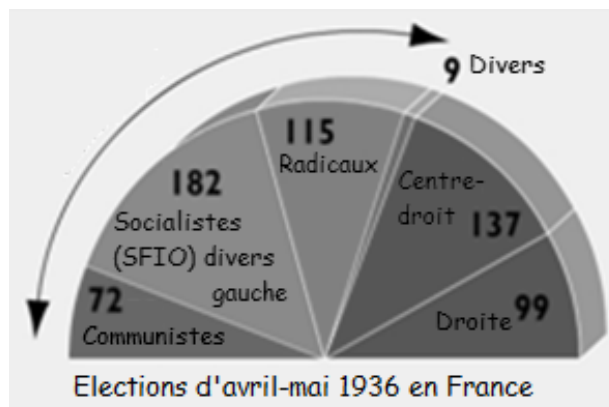
5) Dès son arrivée au pouvoir, quel sort réserve-t-il à ses principaux opposants politiques (communistes, socialistes etc...) ?

Les principaux opposants politiques au régime nazi sont arrêtés, envoyés dans des camps de concentration où ils sont souvent tués. Exemple : le camp de concentration de Dachau ouvert dès 1933.

6) Comment nomme-t-on les premières grandes lois antisémites du régime nazi (1935) ?

Les premières grandes lois antisémites du régime nazi datant de 1935 sont les lois de Nuremberg.

## II. TRAVAIL SUR DOCUMENT (5 points)



1) Présentez le document.

Il s'agit d'un diagramme semi-circulaire qui présente les résultats des élections législatives d'avril 1936 en France.

2) D'après ce document, quels sont les trois principaux partis politiques qui remportent les élections législatives de mai 1936 ?

- La SFIO
- Le Parti radical (les radicaux)
- Le Parti communiste (les communistes)

3) Quel nom donne-t-on à leur alliance électorale ?

Leur alliance électorale s'appelle le Front populaire.

4) En juin 1936, qui dirigera le nouveau gouvernement issu de ces élections ? Vous préciserez son parti politique.

C'est Léon Blum qui dirige le nouveau gouvernement issu de ces élections, il fait partie de la SFIO.

5) Afin d'enrayer la crise économique qui touche la France d'avant-guerre, citez deux mesures emblématiques prises par ce gouvernement.

- instauration de la semaine de 40h de travail hebdomadaire **ET/OU** - augmentation des salaires **ET/OU**
- 2 semaines de congés payés **ET/OU** - adoption des conventions collectives

2 réponses sur les quatre (au choix de l'élève)

6) Comment se nomme l'ensemble de ces nouvelles lois, modifiant durablement la vie des ouvriers en France ?

L'ensemble de ces nouvelles lois s'appelle les lois sociales du Front populaire.

## Deuxième partie GEOGRAPHIE 13 points

### I- QUESTIONS (8 points)

1. Sur la carte, localisez et nommez (2 points)



2. L'étalement urbain (ou périurbanisation) est le mouvement d'extension des espaces urbains à la périphérie des agglomérations. Ou voir la définition du manuel p 234 : c'est le mouvement d'étalement urbain au-delà des limites des agglomérations, dans les communes rurales situées à leur périphérie.
3. En rédigeant un développement construit, décrivez et expliquez la répartition de la population sur le territoire métropolitain. (5 points)

-Rappel du chiffre de la population métropolitaine (le 1<sup>er</sup> janv 2015 : 64,2 millions d'hab pour la métropole, 66,3 millions avec les DOM, 2<sup>e</sup> rang de l'UE après l'Allemagne) et du chiffre de la densité de population (115 hab/km<sup>2</sup>), relativement faible par rapport aux voisins européens.

- Une répartition inégale : + de 82% des Français vivent dans une aire urbaine (celle de Paris regroupe 18% de la pop). Les vallées, les littoraux, le Sud et l'Ouest, les régions frontalières connaissent les densités de population les plus fortes. En revanche, la « diagonale du vide », du Nord-Est (Ardennes) aux Pyrénées se compose de territoires peu densément peuplés, à dominante rurale et agricole et de territoires plus urbains, en crise industrielle (Clermont-Ferrand, Saint-Etienne).

- Mais, cette répartition évolue. A l'échelle nationale, les migrations intérieures font glisser la population du Nord-Est vers le Sud et l'Ouest (cadre de vie agréable, héliotropisme et activités économiques dynamiques : hautes technologies). Les grandes villes sont également attractives (métropolisation) pour la population française, comme pour la population immigrée qui s'y concentre plus particulièrement (Île-de-France, Nord et Sud-Est). A l'échelle locale, les mobilités quotidiennes (migrations pendulaires), liées à la périurbanisation, révèlent l'attraction des grandes villes (bassin d'emplois).

- Conclusion possible : nécessité de rééquilibrer cette répartition par des aménagements.

## II- TRAVAIL SUR DOCUMENT (5 points)

1. Relevez dans le texte, sans le recopier, une information indiquant l'attractivité de la région Île-de-France à l'échelle mondiale et un élément montrant l'importance de la région Île-de-France à l'échelle nationale.

L'attractivité de la région Île-de-France à l'échelle mondiale : elle regroupe la plus forte concentration de chercheurs en Europe et comporte plusieurs pôles de compétitivité dans différents domaines (informatique, santé...).

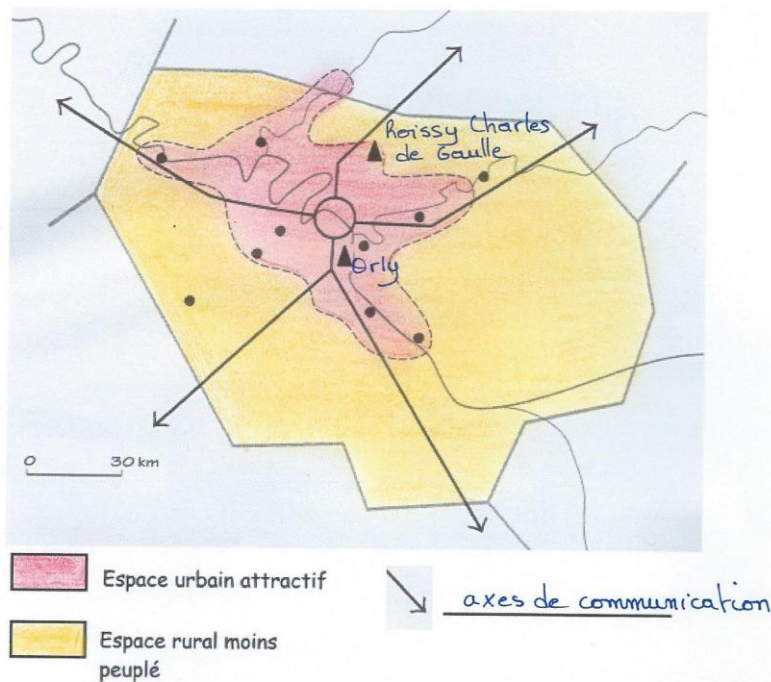
L'importance de la région Île-de-France à l'échelle nationale : elle se classe en tête des régions industrielles françaises et est la seule région française à pouvoir rivaliser au niveau mondial, dans les domaines scientifiques et technologiques.

2. Quels sont d'après ce texte, les nouveaux espaces dynamiques de la région Ile-de-France ? Quelles sont les activités innovantes ?

Outre Paris et le quartier de La Défense, on observe de nouveaux espaces dynamiques tels que la Plaine de France (Roissy), les villes nouvelles de Saint-Quentin-en-Yvelines et de Marne-la-Vallée et enfin, le Plateau de Saclay. Les activités innovantes concernent les technologies de l'information et de la communication, le domaine de la santé et de l'alimentation.

3. **Tâche cartographique** : complétez le croquis et sa légende. Le soin et la logique du choix des couleurs sont évalués sur 0,5 pt.

Coloriez l'espace urbain très attractif, l'espace encore rural moins densément peuplé. Indiquez à quoi correspondent les flèches. Placez sur le croquis les aéroports internationaux.



### Troisième partie EDUCATION CIVIQUE 10 points

#### I. QUESTIONS (5 points)

1) Qu'est-ce qu'une démocratie?

Régime politique dans lequel le pouvoir politique est exercé par le peuple qui élit ses représentants.

2) Présentez deux symboles de la république française puis présentez deux principes de la République française.

Deux symboles (**au choix**)

-Marianne (allégorie)

-Drapeau tricolore (emblème)

-Marseillaise (hymne national)

-14 juillet (fête nationale)

- La devise « Liberté,égalité,fraternité »

Deux principes (**au choix**)

-démocratique

-laïque

-sociale


-indivisible

Attention à la confusion entre valeur et principe (voir cours).

3) Comment le Président de la République française est-il élu ? Quelle est la durée de son mandat? Quel pouvoir partage-t-il avec le Gouvernement ? Quel est son lien avec l'Assemblée Nationale ?

Président élu au suffrage universel direct pour 5 ans. Avec le gouvernement il partage le pouvoir exécutif. Il peut dissoudre l'Assemblée nationale. Il promulgue les lois dans un délai de 15 jours après leur vote par le Parlement (députés et les sénateurs), afin qu'elles soient publiées au *Journal officiel*.

#### II. Etude de document (5 points)



Plantu, dessin paru dans *Cohabitation à l'eau de rose*, Le Monde édition, 1993.

1) Présentez le document.

Il s'agit d'un dessin de presse réalisé par Plantu en 1993, paru dans l'ouvrage Cohabitation à l'eau de rose.

2) Comment ces personnes ont-elles obtenu la nationalité française ? Ensuite, rappelez trois conditions à remplir pour l'obtenir (2 points)?

Ces personnes ont obtenu la nationalité française par naturalisation.

Elles l'ont obtenue car elles vivent depuis plus de 5 ans en France, elles sont majeures, elles maîtrisent la langue française.

3) Quels sont les autres moyens pour obtenir la nationalité française ?

Les autres moyens pour obtenir la nationalité française sont le droit du sol et le droit du sang.

Le mariage avec un(e) Français(e) permet d'obtenir la nationalité par naturalisation.

4) Quel problème soulève le dessinateur à travers ce document ?

**2 réponses possibles**

- soit il y a un trop grand nombre de candidatures par rapport aux nombres de naturalisation accordées
- soit l'Etat a choisi de restreindre le nombre de naturalisations qu'il accorde chaque année.